


Neue Fragen GW+A+B (Nr. 2187)



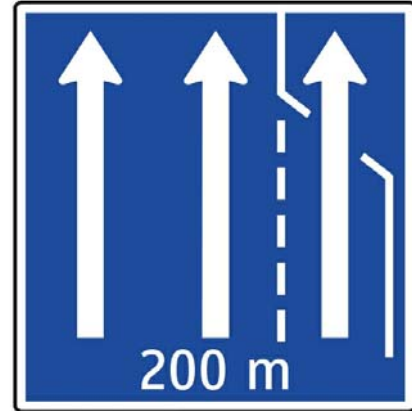
Was wird durch dieses Verkehrszeichen angezeigt? (1 Punkt) (Nr. 2187) (Grundwissen)

- R Dass der Pannestreifen einer Autobahn befahren werden darf, wenn das Fahrstreifensignal für den Pannestreifen einen grünen Pfeil zeigt
- F Dass der Pannestreifen einer Autobahn auf jeden Fall befahren werden darf
- F Eine Kriechspur für LKW
- F Ein Fahrstreifen im Bereich einer Baustelle

Sie befahren auf einer Autobahn den freigegebenen Pannestreifen. Dürfen Sie nach links auf den nächstgelegenen Fahrstreifen der Autobahn wechseln? (1 Punkt) (Nr. 2192)

- R Ja, wenn es ohne Gefahr möglich ist
- F Nein, solange der Pannestreifen durch eine Sperrlinie vom nächstgelegenen Fahrstreifen der Autobahn getrennt wird
- F Nein. Ich muss so lang auf dem Pannestreifen weiterfahren, bis er endet
- F Nein, auf keinen Fall

Neue Fragen GW+A+B (Nr. 2193)




Was wird durch dieses Verkehrszeichen angezeigt? (1 Punkt) (Nr. 2193) (Grundwissen)

- R Dass nach dem Ende des Beschleunigungsstreifens auf dem Pannestreifen gefahren werden darf, wenn das Fahrstreifensignal für den Pannestreifen einen grünen Pfeil zeigt
- F Dass der Pannestreifen dieser Autobahn auf jeden Fall befahren werden darf
- F Der Beginn eines Verzögerungsstreifens
- F Ein Fahrstreifen im Bereich einer Baustelle

Sie befahren auf einer Autobahn den freigegebenen Pannestreifen. Dürfen Sie nach links auf den nächstgelegenen Fahrstreifen der Autobahn wechseln? (1 Punkt) (Nr. 2194)

- R Ja, wenn es ohne Gefahr möglich ist
- F Ja, aber nur, solange der Pannestreifen durch eine Leitlinie vom nächstgelegenen Fahrstreifen der Autobahn getrennt wird
- F Nein. Ich muss so lang auf dem Pannestreifen weiterfahren, bis er endet
- F Nein, auf keinen Fall

Neue Fragen GW+A+B (Nr. 2195)




Was wird durch dieses Verkehrszeichen angezeigt? (1 Punkt) (Nr. 2195) (Grundwissen)

- R Dass die Freigabe des Pannestreifens einer Autobahn endet
- F Dass die Freigabe des Pannestreifens einer Autobahn beginnt
- F Das Ende eines Beschleunigungsstreifens
- F Das Ende einer Kriechspur für LKW

Sie befahren auf einer Autobahn den freigegebenen Pannestreifen. Wie verhalten Sie sich bei diesem Verkehrszeichen? (1 Punkt) (Nr. 2322)

- R Ich wechsle auf den nächstgelegenen Fahrstreifen der Autobahn, wenn es ohne Gefahr möglich ist
- F Ich wechsle sofort auf den nächstgelegenen Fahrstreifen der Autobahn
- R Ich achte auf die Anzeige des Fahrstreifensignals für den Pannestreifen
- F Ich fahre auf dem Pannestreifen weiter, bis er endet

Neue Fragen GW+A+B (Nr. 2330)



Was wird durch dieses Verkehrszeichen angezeigt? (1 Punkt) (Nr. 2330) (Grundwissen)

- R Dass das Befahren des Pannestreifens ab diesem Zeichen nur in Ausnahmefällen erlaubt ist
- F Dass der Pannestreifen einer Autobahn endet
- F Das Ende eines Beschleunigungsstreifens
- F Das Ende eines Verzögerungsstreifens

Sie fahren auf einer Autobahn und sehen dieses Verkehrszeichen. Die Anzeige auf dem Fahrstreifensignal für den Pannestreifen zeigt ein rotes "X". Wann dürfen Sie den Pannestreifen trotzdem benutzen? (1 Punkt) (Nr. 2450)

- R Wenn ich wegen eines plötzlichen technischen Defekts anhalten muss
- R Ich darf dort fahren, um eine Rettungsgasse zu bilden
- R Wenn ich anhalten muss, weil mir plötzlich übel geworden ist
- R Ich darf dort beschleunigen, damit ich mich nach einer Panne in den fließenden Verkehr einordnen kann

Neue Fragen GW+A+B (Nr. 2451)

Sie lenken ein mehrspuriges Kraftfahrzeug. Dürfen Sie eine Rettungsgasse befahren? (3 Punkte) (Nr. 2451) (Grundwissen)

- R Nein
- R Ja, solange ich keine Einsatzfahrzeug behindere
- F Ja, auf jeden Fall
- F Ja, wenn ich mich auf dem Fahrstreifen links neben meinem Fahrzeug nicht einordnen kann

Mit welchen Folgen müssen Sie rechnen, wenn Sie mit einem mehrspurigen Kraftfahrzeug eine Rettungsgasse befahren? (2 Punkte) (Nr. 2452)

- R Mit einer Vormerkung und einer Geldstrafe
- F Ich werde auf jeden Fall zu einer amtsärztlichen Untersuchung vorgeladen
- F Ich werde auf jeden Fall zu einer Nachschulung aufgefordert
- F Ich werde zum Besuch eines Erste-Hilfe-Kurses aufgefordert

Neue Fragen GW+A+B (Nr. 2453)

Sie lenken ein einspuriges Kraftfahrzeug. Dürfen Sie eine Rettungsgasse befahren? (3 Punkte) (Nr. 2453) (Klasse A)

- R Nein
- F Ja, aber nur, solange ich kein Einsatzfahrzeug behindere
- F Ja, auf jeden Fall
- F Ja, aber nur, wenn ich den Pannestreifen nicht befahren kann

Mit welchen Folgen müssen Sie rechnen, wenn Sie mit einem einspurigen Kraftfahrzeug verbotenerweise eine Rettungsgasse befahren? (2 Punkte) (Nr. 2460)

- R Mit einer Geldstrafe
- R Mit einer Vormerkung, wenn ich dadurch ein Einsatzfahrzeug behindere
- F Ich werde auf jeden Fall zu einer Nachschulung aufgefordert
- F Ich werde zum Besuch eines Erste-Hilfe-Kurses aufgefordert

Neue Fragen GW+A+B (Nr. 2461)



Dürfen Sie Ihr Fahrzeug nach diesen Verkehrszeichen abstellen? (1 Punkt) (Nr. 2461) (Grundwissen)

- R Ja, wenn ein amtlicher Berechtigungs-Aufkleber am Fahrzeug angebracht ist
- R Ja, wenn ich einen Ausweis für Menschen mit Behinderungen besitze
- R Ja, wenn mein Fahrzeug zu den im Amtsblatt für Wien Nummer 41/2018 genannten Ausnahmen gehört
- F Ja, immer dann, wenn ich in Wien wohne oder arbeite

Wo können Sie sich darüber informieren, ob Ihr Fahrzeug zu den auf der Zusatztafel genannten Ausnahmen gehört? (1 Punkt) (Nr. 2472)

- R Im Internet
- R Bei der Stadt Wien
- R Bei der Wirtschaftskammer
- R Bei Autofahrerclubs

Neue Fragen GW+A+B (Nr. 2473)



Was bedeutet dieses Zeichen? (3 Punkte) (Nr. 2473) (Grundwissen)

- R Dass auf dem folgenden Straßenstück die Durchschnittsgeschwindigkeit jedes Fahrzeugs gemessen wird
- R Wenn meine Durchschnittsgeschwindigkeit höher als die zulässige Höchstgeschwindigkeit ist, habe ich mit einer Verwaltungsstrafe zu rechnen
- F Hier wird gemessen, ob ich den Abstand zum vorausfahrenden Fahrzeug einhalte
- R Hier wird kontrolliert, ob die Kennzeichen von Fahrzeugen zur Fahndung ausgeschrieben sind

Woher wissen Sie, welche Durchschnittsgeschwindigkeit Sie ab diesem Verkehrszeichen nicht überschreiten dürfen? (2 Punkte) (Nr. 2474)

- R Durch die vor diesem Bereich aufgestellten Verkehrszeichen
- F Durch Ankündigungen im Verkehrsfunk
- F Durch eine Anzeige an der Überwachungskamera
- F Es gelten immer 130 km/h

Neue Fragen GW+A+B (Nr. 2475)



Sie nähern sich dieser Kreuzung mit etwa 20 km/h und wollen nach rechts einbiegen. Haben Sie Wartepflicht oder Vorrang? (3 Punkte) (Nr. 2475) (Klasse B)

- R Ich habe Wartepflicht gegenüber der Radfahrerin auf dem Mehrzweckstreifen
- F Ich habe Vorrang gegenüber der Radfahrerin, weil der Mehrzweckstreifen hier endet
- F Ich habe Vorrang gegenüber der Radfahrerin, weil ich nach rechts einbiege
- F Ich habe Vorrang gegenüber der Radfahrerin, da keine Radfahrerüberfahrt markiert ist

Sie wollen bei dieser Kreuzung nach rechts einbiegen. Wie verhalten Sie sich? (2 Punkte) (Nr. 2476)

- R Ich nähere mich bremsend, schaue in den rechten Rückspiegel und über die rechte Schulter
- R Ich schalte den rechten Blinker ein und beobachte das Verhalten der Radfahrerin
- R Ich werde nicht einbiegen, falls ich dadurch die Radfahrerin behindern könnte
- F Ich schalte den rechten Blinker möglichst frühzeitig ein, damit die Radfahrerin genügend Zeit zum Abbremsen hat